

א. סוג הבחינה: בגרות לבתי ספר על-יסודיים

ב. בגרות לנבחנים אקסטרניים

מועד הבחינה: קיץ תשס"ז, 2007

מספר השאלון: 574,057102

גאוגרפיה

יחידת לימוד אחת

הוראות לנבחן

- א. משך הבחינה: שעה וחצי.
- ב. מבנה השאלון ומפתח ההערכה: בשאלון זה חמש שאלות על חבל ארץ שלא נלמד. עליך לענות על ארבע שאלות, לפי ההוראות בגוף השאלון. לכל שאלה – 25 נקודות; סה"כ – 100 נקודות.
- ג. חומר עזר מותר בשימוש: אטלס אוניברסיטאי חדש ו/או אטלס כרטא משנת 1993 ואילך. שים לב: אין להשתמש באטלס גיאוגרפי יבנה, הכולל בתוכו את המילון למונחי הגיאוגרפיה.
- ד. הוראות מיוחדות:
- (1) רשום במחברתך באיזה אטלס השתמשת: שם ושנת הוצאה.
- (2) כדי להמחיש את תשובותיך היעזר בסרטוטים, בהתכים ובגרפים, לפי הצורך.

כתוב במחברת הבחינה בלבד, בעמודים נפרדים, כל מה שברצונך לכתוב כטיוטה (ראשי פרקים, חישובים וכדומה). רשום "טיוטה" בראש כל עמוד טיוטה. רישום טיוטות כלשהן על דפים שמחוץ למחברת הבחינה עלול לגרום לפסילת הבחינה!

ההנחיות בשאלון זה מנוסחות בלשון זכר ומכוונות לנבחנות ולנבחנים כאחד.

בהצלחה!

ה ש א ל ו ת

חבל ארץ שלא נלמד (100 נקודות)

בשאלון זה תיבדק יכולתך להתמודד עם חומר גאוגרפי שלא למדת.

השאלון מבוסס על ניתוח מפות באטלס כללי.

חבל הארץ שהשאלון עוסק בו הוא הרפובליקה הדמוקרטית של קונגו (זאיר).

בעמוד 5 בשאלון זה מפה סכמטית של הרפובליקה הדמוקרטית של קונגו.

זכור: המידע הגאוגרפי נמצא לא רק במפות החבליות והפיזיות שבאטלס, אלא גם במפות

העולמיות והנושאיות (כמו אקלים, אוכלוסייה, כלכלה).

רשום במחברתך את השם ואת שנת ההוצאה של כל אטלס שאתה משתמש בו (אטלס אוניברסיטאי חדש, אטלס כרטא).

עליך לענות על ארבע שאלות: על שאלה 1 (חובה), ועל שלוש מהשאלות 2-5.

(לכל שאלה – 25 נקודות)

ענה על שאלה 1. (חובה)

1. יחידות נוף

א. הערים מבנדקה ובוקבו נמצאות בשתי יחידות נוף שונות זו מזו.

ציין את יחידות הנוף האלה. (8 נקודות)

ב. לכל אחת משתי יחידות הנוף שציינת, תאר שניים משלושת המאפיינים שלפניך.

(סה"כ – ארבעה מאפיינים) (17 נקודות)

– פני השטח

– הידרולוגיה

– גאולוגיה

ענה על שלוש מהשאלות 2-5.

2. אקלים

א. כתוב באיזה אזור אקלים נמצא רוב שטחה של הרפובליקה הדמוקרטית של קונגו,

וציין שלושה מאפיינים של אקלים זה. (13 נקודות)

ב. הסבר שתי השפעות של האקלים על היישוב ו/או על הכלכלה ברפובליקה

הדמוקרטית של קונגו. (12 נקודות)

3. נהר הקונגו ויובליו

- א. תאר שלושה שימושים שנעשים בנהר הקונגו ויובליו. (15 נקודות)
- ב. הסבר קושי אחד שהנהר עלול לגרום להתיישבות האדם. (10 נקודות)

4. כלכלה ופיתוח

- א. לפניך נתונים על הכלכלה של הרפובליקה הדמוקרטית של קונגו.

תל"ג – 700 דולר בממוצע לנפש לשנה (הערכה)

מבנה התל"ג על פי מגזרים
(הערכה)

השיעור (אחוזים)	המגזר
55	חקלאות
11	תעשייה וכרייה
34	שירותים
100	סה"כ

על פי הנתונים, קבע מהי רמת הפיתוח של המדינה, והבא שני נימוקים לקביעתך.

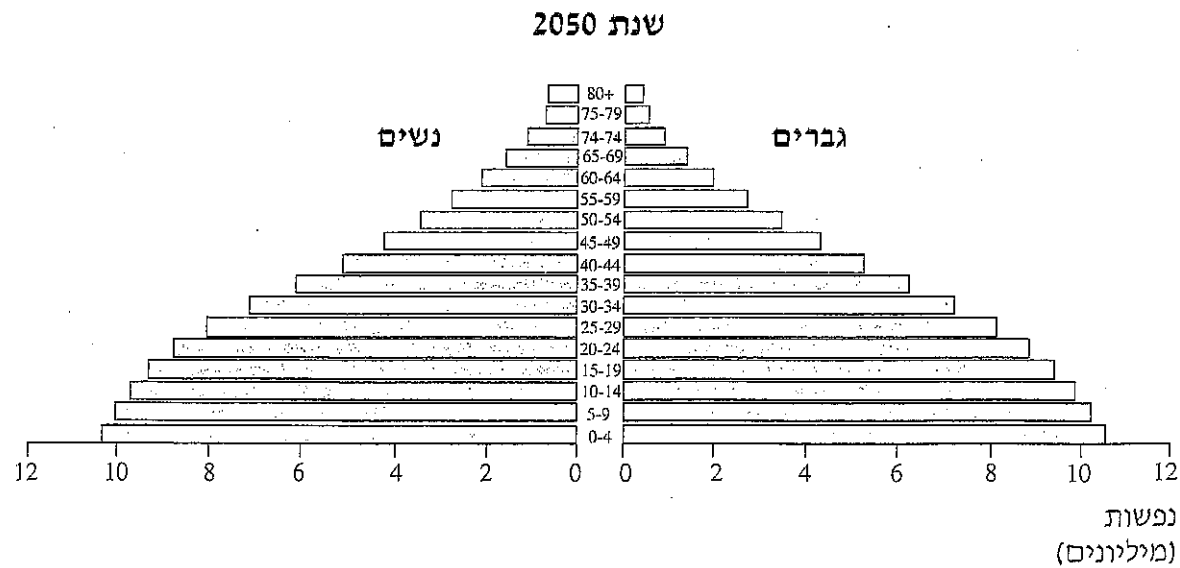
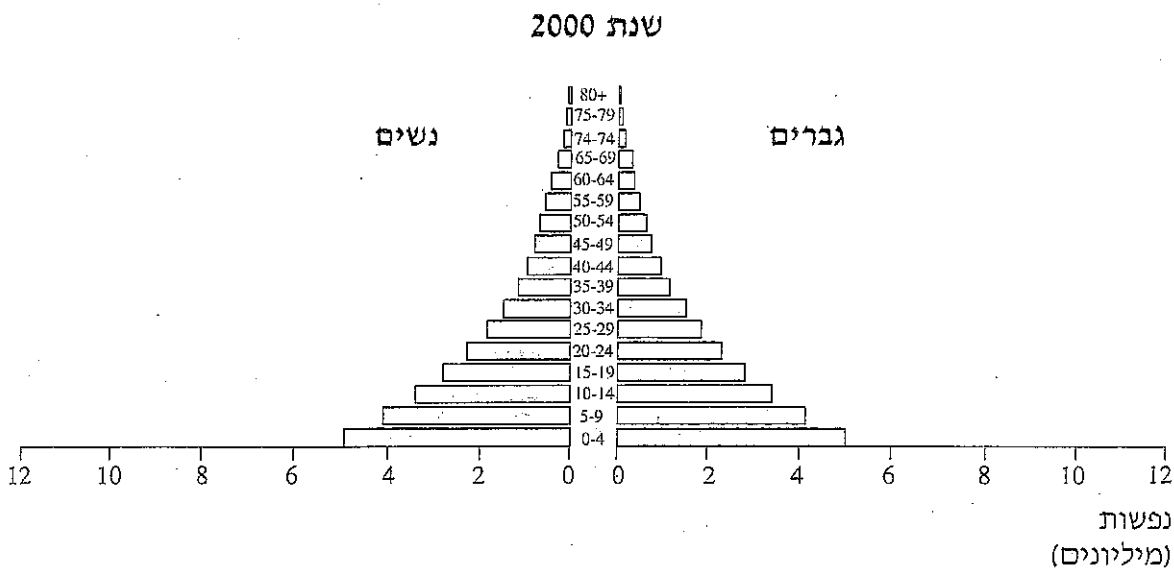
(13 נקודות)

- ב. הסבר שתי דרכים שבהן ניתן לנצל את הנתונים הטבעיים של הרפובליקה

הדמוקרטית של קונגו לשם פיתוחה. (12 נקודות)

5. אוכלוסייה

עיון בפירמידת הגילים של הרפובליקה הדמוקרטית של קונגו לשנת 2000 ובפירמידת החזויה לשנת 2050, וענה על הסעיפים א-ב.
 שים לב: הנתונים בפירמידות הם במספרים מוחלטים (מספר הנפשות), ולא באחוזים.



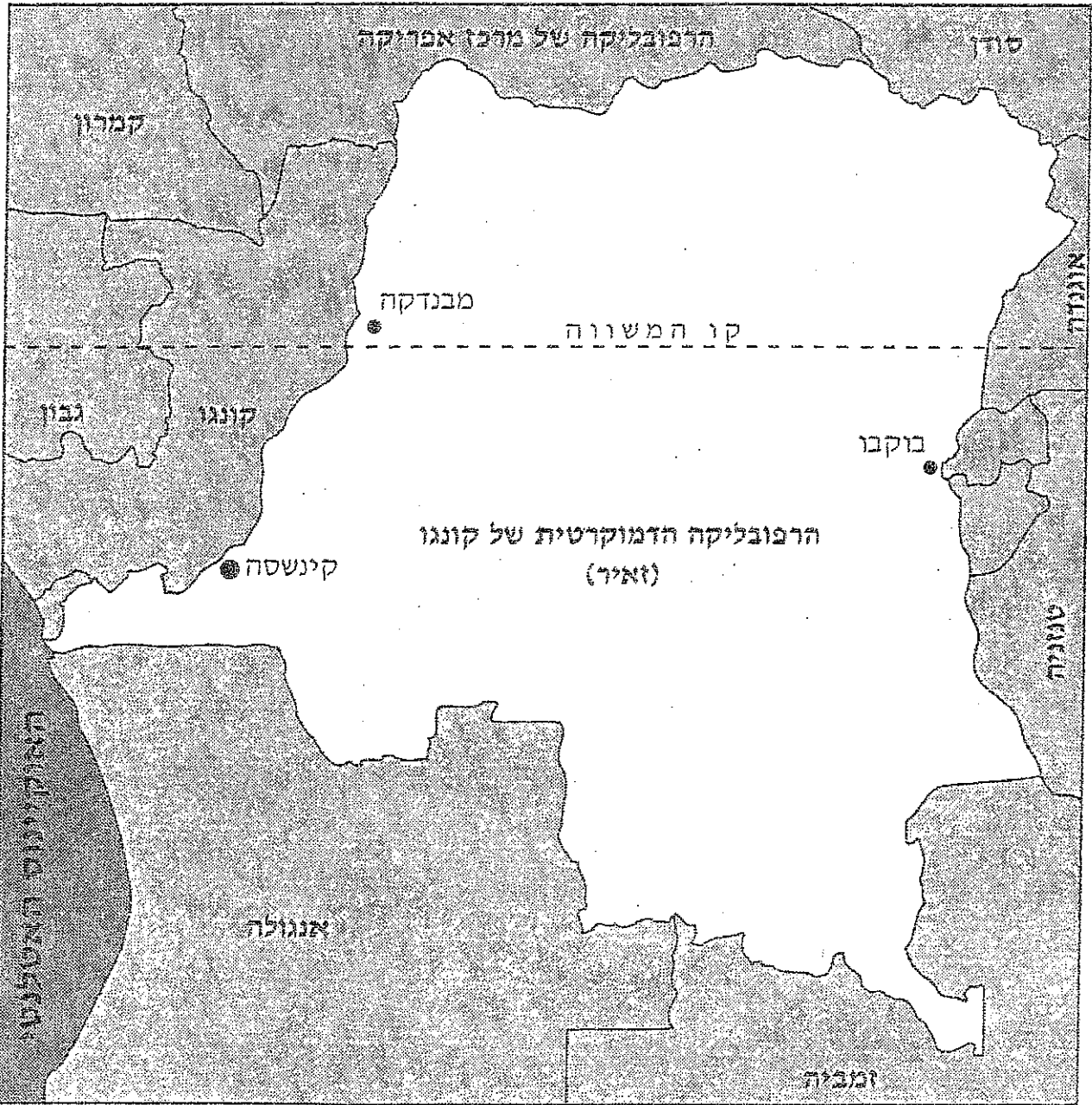
א. תאר שני מאפיינים של פירמידת הגילים בשנת 2000. (12 נקודות)

ב. על פי פירמידות הגילים, על אף הגידול באוכלוסייה לא יהיה שינוי מהותי במאפיינים

הדמוגרפיים של אוכלוסיית הרפובליקה הדמוקרטית של קונגו.

הבא שני הסברים אפשריים לכך. (13 נקודות)

הרפובליקה הדמוקרטית של קונגו – מפה סכמטית



בהצלחה!

זכות היוצרים שמורה למדינת ישראל
אין להעתיק או לפרסם אלא ברשות משרד החינוך